

第4問 (選択問題) (配点 20)

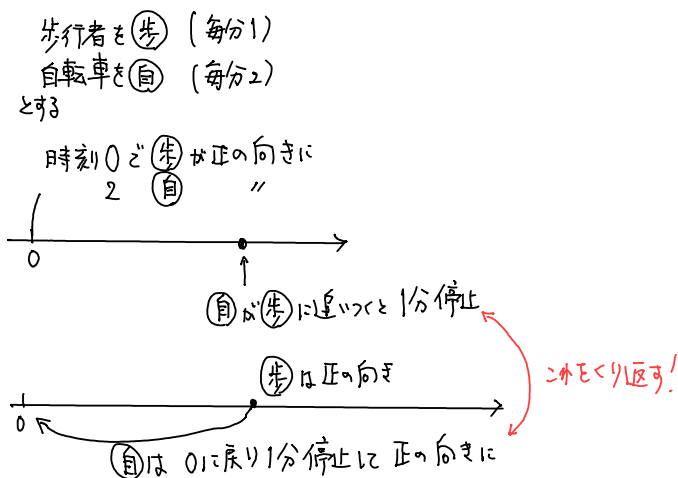
以下のように、歩行者と自転車が自宅を出発して移動と停止を繰り返している。歩行者と自転車の動きについて、数学的に考えてみよう。

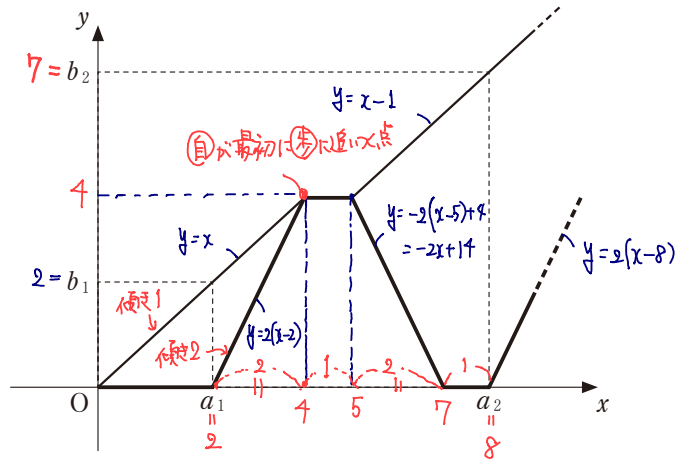
自宅を原点とする数直線を考え、歩行者と自転車をその数直線上を動く点とみなす。数直線上の点の座標が y であるとき、その点は位置 y にあるということにする。また、歩行者が自宅を出発してから x 分経過した時点時刻 x と表す。歩行者は時刻0に自宅を出発し、正の向きに毎分1の速さで歩き始める。自転車は時刻2に自宅を出発し、毎分2の速さで歩行者を追いかける。自転車が歩行者に追いつくと、歩行者と自転車はともに1分だけ停止する。その後、歩行者は再び正の向きに毎分1の速さで歩き出し、自転車は毎分2の速さで自宅に戻る。自転車は自宅に到着すると、1分だけ停止した後、再び毎分2の速さで歩行者を追いかける。これを繰り返し、自転車は自宅と歩行者の間を往復する。

$x = a_n$ を自転車が n 回目に自宅を出発する時刻とし、 $y = b_n$ をそのときの歩行者の位置とする。

a_n, b_n の定義

- (1) 花子さんと太郎さんは、数列 $\{a_n\}$ 、 $\{b_n\}$ の一般項を求めるために、歩行者と自転車について、時刻 x において位置 y にいることを O を原点とする座標平面上の点 (x, y) で表すことにした。

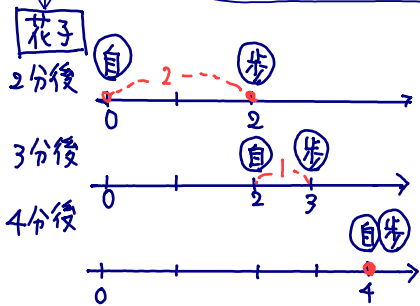




$a_1 = 2, b_1 = 2$ により、自転車が最初に自宅を出発するときの時刻と自転車の位置を表す点の座標は $(2, 0)$ であり、そのときの時刻と歩行者の位置を表す点の座標は $(2, 2)$ である。また、自転車が最初に歩行者に追いつくときの時刻と位置を表す点の座標は $(\boxed{4}, \boxed{4})$ である。よって

$a_2 = \boxed{8}, b_2 = \boxed{7}$ である。
ア(1点) イ(1点) ア(1点) ウ(1点)
グラフより
 $a_1 = 2, b_1 = 2$
 $a_2 = \boxed{8}, b_2 = \boxed{7}$

花子：数列 $\{a_n\}, \{b_n\}$ の一般項について考える前に、 $(\boxed{\text{ア}}, \boxed{\text{ア}})$ の求め方について整理してみようか。
 太郎：花子さんはどうやって求めたの？
 花子：自転車が歩行者を追いかけるときに、間隔が1分間に1ずつ縮まっていくことを利用したよ。
 太郎：歩行者と自転車の動きをそれぞれ直線の方程式で表して、交点を計算して求めることもできるね。



太郎

$$\begin{cases} y = x \\ y = 2(x-2) \end{cases}$$

を連立

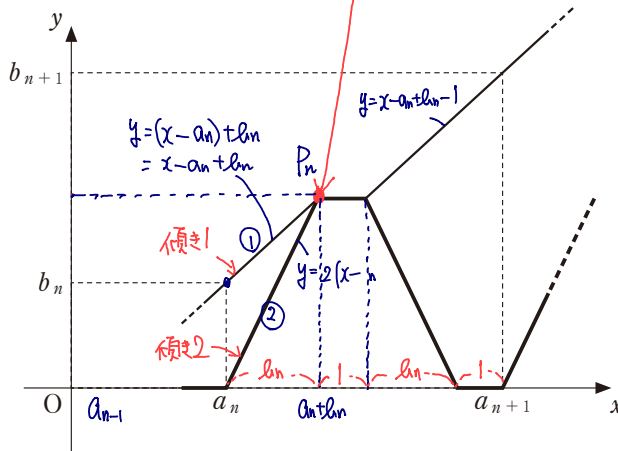
$$\begin{aligned} x &= 2x - 4 \\ \therefore x &= 4 \end{aligned}$$

よって $(\boxed{4}, \boxed{4})$

数学II・数学B

自転車が n 回目に自宅を出発するときの時刻と自転車の位置を表す点の座標は $(a_n, 0)$ であり、そのときの時刻と歩行者の位置を表す点の座標は (a_n, b_n) である。よって、 n 回目に自宅を出発した自転車が次に歩行者に追いつくときの時刻と位置を表す点の座標は、 a_n, b_n を用いて、

$(\boxed{\text{③}}, \boxed{\text{④}})$ と表せる。
 I (2点) O (2点)



$$\begin{cases} y = x - a_n + b_n \dots \text{③} \\ y = 2(x - a_n) \dots \text{④} \end{cases}$$

$$\text{③} = \text{④} \times 2$$

$$x - a_n + b_n = 2x - 2a_n$$

$$x = a_n + b_n$$

$$\text{④} \wedge \text{代} \times 2$$

$$y = 2b_n$$

よって — の座標は

$(a_n + b_n, 2b_n)$

③ I ④ O

$\boxed{\text{I}}$, $\boxed{\text{O}}$ の解答群 (同じものを繰り返し選んでもよい)

- | | | |
|-----------------|----------------|----------|
| ① a_n | ④ b_n | ② $2a_n$ |
| I ③ $a_n + b_n$ | O ⑤ $2b_n$ | ⑥ $3a_n$ |
| ⑦ $2a_n + b_n$ | ⑧ $a_n + 2b_n$ | ⑨ $3b_n$ |

グッジョブ

$$a_{n+1} = a_n + b_n + 1 + b_n + 1$$

$$= a_n + \boxed{2}b_n + \boxed{2} \dots \text{①}$$

$$b_{n+1} = a_{n+1} - a_n + b_n - 1$$

$$= (a_n + 2b_n + 2) - a_n + b_n - 1 \quad (\because \text{①})$$

$$= \boxed{3}b_n + \boxed{1} \dots \text{②}$$

