

第4問 (選択問題) (配点 20)

初項3, 公差 $p$ の等差数列を $\{a_n\}$ とし, 初項3, 公比 $r$ の等比数列を $\{b_n\}$ とする。ただし,  $p \neq 0$ かつ $r \neq 0$ とする。さらに, これらの数列が次を満たすとする。

$$a_n b_{n+1} - 2 a_{n+1} b_n + 3 b_{n+1} = 0 \quad (n = 1, 2, 3, \dots) \dots\dots \textcircled{1}$$

(1)  $p$ と $r$ の値を求めよう。自然数 $n$ について,  $a_n, a_{n+1}, b_n$ はそれぞれ

$$a_n = \boxed{\text{ア}} + (n-1)p \quad \dots\dots\dots \textcircled{2}$$

$$a_{n+1} = \boxed{\text{ア}} + np \quad \dots\dots\dots \textcircled{3}$$

$$b_n = \boxed{\text{イ}} r^{n-1}$$

と表される。 $r \neq 0$ により, すべての自然数 $n$ について,  $b_n \neq 0$ となる。

$\frac{b_{n+1}}{b_n} = r$ であることから, ①の両辺を $b_n$ で割ることにより

$$\boxed{\text{ウ}} a_{n+1} = r(a_n + \boxed{\text{エ}}) \quad \dots\dots\dots \textcircled{4}$$

が成り立つことがわかる。④に②と③を代入すると

$$(r - \boxed{\text{オ}})pn = r(p - \boxed{\text{カ}}) + \boxed{\text{キ}} \quad \dots\dots\dots \textcircled{5}$$

となる。⑤がすべての $n$ で成り立つことおよび $p \neq 0$ により,  $r = \boxed{\text{オ}}$

を得る。さらに, このことから,  $p = \boxed{\text{ク}}$ を得る。

以上から, すべての自然数 $n$ について,  $a_n$ と $b_n$ が正であることもわかる。

(数学Ⅱ・数学B第4問は次ページに続く。)

- (2)  $p = \boxed{\text{ク}}$ ,  $r = \boxed{\text{オ}}$  であることから,  $\{a_n\}$ ,  $\{b_n\}$  の初項から第  $n$  項までの和は, それぞれ次の式で与えられる。

$$\sum_{k=1}^n a_k = \frac{\boxed{\text{ケ}}}{\boxed{\text{コ}}} n(n + \boxed{\text{サ}})$$

$$\sum_{k=1}^n b_k = \boxed{\text{シ}} \left( \boxed{\text{オ}}^n - \boxed{\text{ス}} \right)$$

- (3) 数列  $\{a_n\}$  に対して, 初項 3 の数列  $\{c_n\}$  が次を満たすとする。

$$a_n c_{n+1} - 4 a_{n+1} c_n + 3 c_{n+1} = 0 \quad (n = 1, 2, 3, \dots) \dots\dots\dots \textcircled{6}$$

$a_n$  が正であることから,  $\textcircled{6}$  を変形して,  $c_{n+1} = \frac{\boxed{\text{セ}} a_{n+1}}{a_n + \boxed{\text{ソ}}} c_n$  を得る。

さらに,  $p = \boxed{\text{ク}}$  であることから, 数列  $\{c_n\}$  は  $\boxed{\text{タ}}$  ことがわかる。

$\boxed{\text{タ}}$  の解答群

- ① すべての項が同じ値をとる数列である
- ② 公差が 0 でない等差数列である
- ③ 公比が 1 より大きい等比数列である
- ④ 公比が 1 より小さい等比数列である
- ⑤ 等差数列でも等比数列でもない

- (4)  $q, u$  は定数で,  $q \neq 0$  とする。数列  $\{b_n\}$  に対して, 初項 3 の数列  $\{d_n\}$  が次を満たすとする。

$$d_n b_{n+1} - q d_{n+1} b_n + u b_{n+1} = 0 \quad (n = 1, 2, 3, \dots) \dots\dots\dots \textcircled{7}$$

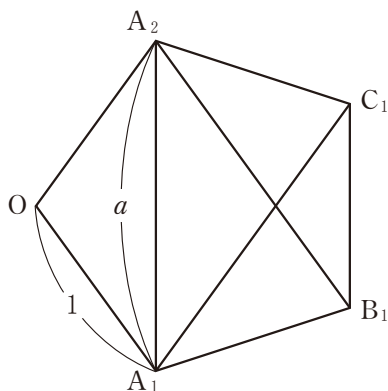
$r = \boxed{\text{オ}}$  であることから,  $\textcircled{7}$  を変形して,  $d_{n+1} = \frac{\boxed{\text{チ}}}{q} (d_n + u)$

を得る。したがって, 数列  $\{d_n\}$  が, 公比が 0 より大きく 1 より小さい等比数列となるための必要十分条件は,  $q > \boxed{\text{ツ}}$  かつ  $u = \boxed{\text{テ}}$  である。

第5問 (選択問題) (配点 20)

1辺の長さが1の正五角形の対角線の長さを  $a$  とする。

(1) 1辺の長さが1の正五角形  $OA_1B_1C_1A_2$  を考える。



$\angle A_1C_1B_1 = \boxed{\text{アイ}}^\circ$ ,  $\angle C_1A_1A_2 = \boxed{\text{アイ}}^\circ$  となることから,  $\overrightarrow{A_1A_2}$  と  $\overrightarrow{B_1C_1}$  は平行である。ゆえに

$$\overrightarrow{A_1A_2} = \boxed{\text{ウ}} \overrightarrow{B_1C_1}$$

であるから

$$\overrightarrow{B_1C_1} = \frac{1}{\boxed{\text{ウ}}} \overrightarrow{A_1A_2} = \frac{1}{\boxed{\text{ウ}}} (\overrightarrow{OA_2} - \overrightarrow{OA_1})$$

また,  $\overrightarrow{OA_1}$  と  $\overrightarrow{A_2B_1}$  は平行で, さらに,  $\overrightarrow{OA_2}$  と  $\overrightarrow{A_1C_1}$  も平行であることから

$$\begin{aligned} \overrightarrow{B_1C_1} &= \overrightarrow{B_1A_2} + \overrightarrow{A_2O} + \overrightarrow{OA_1} + \overrightarrow{A_1C_1} \\ &= -\boxed{\text{ウ}} \overrightarrow{OA_1} - \overrightarrow{OA_2} + \overrightarrow{OA_1} + \boxed{\text{ウ}} \overrightarrow{OA_2} \\ &= (\boxed{\text{エ}} - \boxed{\text{オ}}) (\overrightarrow{OA_2} - \overrightarrow{OA_1}) \end{aligned}$$

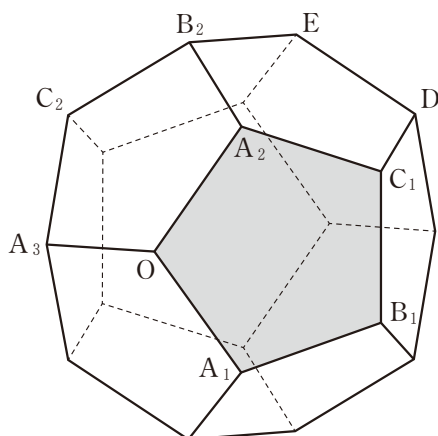
となる。したがって

$$\frac{1}{\boxed{\text{ウ}}} = \boxed{\text{エ}} - \boxed{\text{オ}}$$

が成り立つ。 $a > 0$  に注意してこれを解くと,  $a = \frac{1 + \sqrt{5}}{2}$  を得る。

(数学Ⅱ・数学B第5問は次ページに続く。)

- (2) 下の図のような、1辺の長さが1の正十二面体を考える。正十二面体とは、どの面もすべて合同な正五角形であり、どの頂点にも三つの面が集まっているへこみのない多面体のことである。



面  $OA_1B_1C_1A_2$  に着目する。 $\overrightarrow{OA_1}$  と  $\overrightarrow{A_2B_1}$  が平行であることから

$$\overrightarrow{OB_1} = \overrightarrow{OA_2} + \overrightarrow{A_2B_1} = \overrightarrow{OA_2} + \boxed{\text{ウ}} \overrightarrow{OA_1}$$

である。また

$$|\overrightarrow{OA_2} - \overrightarrow{OA_1}|^2 = |\overrightarrow{A_1A_2}|^2 = \frac{\boxed{\text{カ}} + \sqrt{\boxed{\text{キ}}}}{\boxed{\text{ク}}}$$

に注意すると

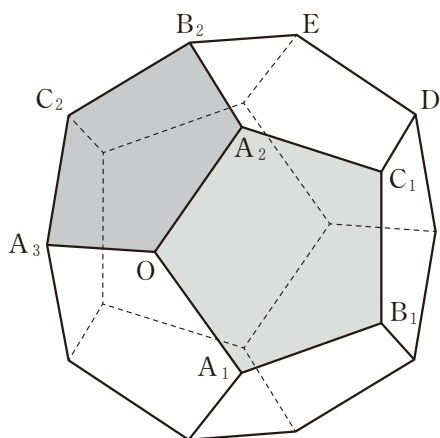
$$\overrightarrow{OA_1} \cdot \overrightarrow{OA_2} = \frac{\boxed{\text{ケ}} - \sqrt{\boxed{\text{コ}}}}{\boxed{\text{サ}}}$$

を得る。

ただし、 $\boxed{\text{カ}} \sim \boxed{\text{サ}}$  は、文字  $a$  を用いない形で答えること。

(数学Ⅱ・数学B第5問は次ページに続く。)

数学Ⅱ・数学B



次に、面  $OA_2B_2C_2A_3$  に着目すると

$$\overrightarrow{OB_2} = \overrightarrow{OA_3} + \boxed{\text{ウ}} \overrightarrow{OA_2}$$

である。さらに

$$\overrightarrow{OA_2} \cdot \overrightarrow{OA_3} = \overrightarrow{OA_3} \cdot \overrightarrow{OA_1} = \frac{\boxed{\text{ケ}} - \sqrt{\boxed{\text{コ}}}}{\boxed{\text{サ}}}$$

が成り立つことがわかる。ゆえに

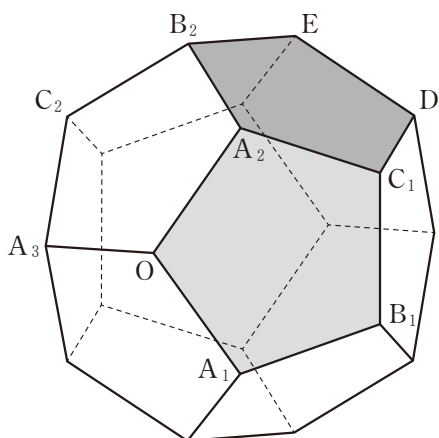
$$\overrightarrow{OA_1} \cdot \overrightarrow{OB_2} = \boxed{\text{シ}}, \quad \overrightarrow{OB_1} \cdot \overrightarrow{OB_2} = \boxed{\text{ス}}$$

である。

$\boxed{\text{シ}}$ ,  $\boxed{\text{ス}}$  の解答群(同じものを繰り返し選んでもよい。)

- |                             |                             |                             |                            |
|-----------------------------|-----------------------------|-----------------------------|----------------------------|
| ① 0                         | ② 1                         | ③ -1                        | ④ $\frac{1 + \sqrt{5}}{2}$ |
| ⑤ $\frac{1 - \sqrt{5}}{2}$  | ⑥ $\frac{-1 + \sqrt{5}}{2}$ | ⑦ $\frac{-1 - \sqrt{5}}{2}$ | ⑧ $-\frac{1}{2}$           |
| ⑨ $\frac{-1 + \sqrt{5}}{4}$ | ⑩ $\frac{-1 - \sqrt{5}}{4}$ |                             |                            |

(数学Ⅱ・数学B第5問は次ページに続く。)



最後に、面  $A_2C_1DEB_2$  に着目する。

$$\overrightarrow{B_2D} = \boxed{\text{ウ}} \overrightarrow{A_2C_1} = \overrightarrow{OB_1}$$

であることに注意すると、4点  $O, B_1, D, B_2$  は同一平面上にあり、四角形  $OB_1DB_2$  は  $\boxed{\text{セ}}$  ことがわかる。

$\boxed{\text{セ}}$  の解答群

- ① 正方形である
- ② 正方形ではないが、長方形である
- ③ 正方形ではないが、ひし形である
- ④ 長方形でもひし形でもないが、平行四辺形である
- ⑤ 平行四辺形ではないが、台形である
- ⑥ 台形でない

ただし、少なくとも一組の対辺が平行な四角形を台形という。